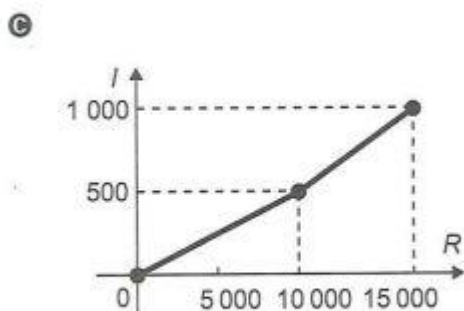
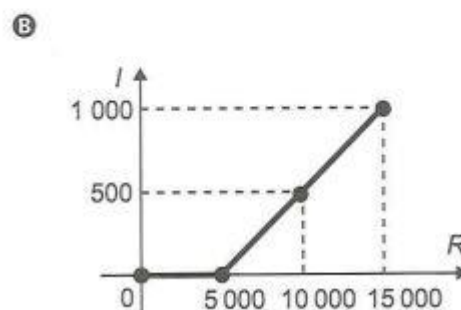
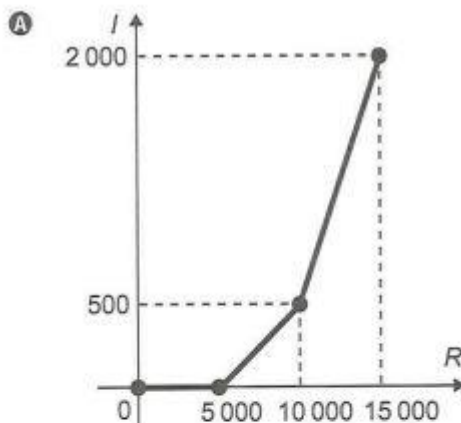


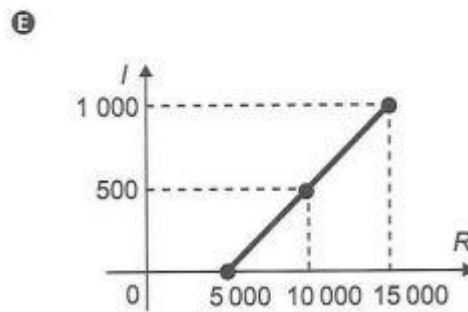
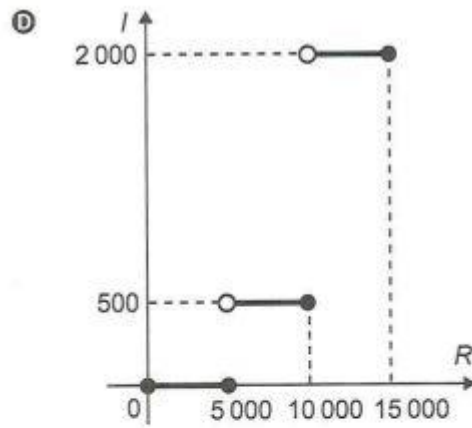
Questão 158

O quadro representa a relação entre o preço de um produto (R) e seu respectivo imposto devido (I).

Preço do produto (R)	Imposto devido (I)
$R \leq 5\,000$	isento
$5\,000 < R \leq 10\,000$	10% de $(R - 5\,000)$
$10\,000 < R \leq 15\,000$	$500 + 30\%$ de $(R - 10\,000)$

O gráfico que melhor representa essa relação é





ALTERNATIVA A

Observando a tabela:

$$R = 10000$$

$$I = 10\% \text{ de } (R - 5000)$$

$$I = 0,1(10000 - 5000) = 500$$

$$(10000, 500)$$

$$R = 15000$$

$$I = 500 + 30\% \text{ de } (R - 10000)$$

$$I = 500 + 0,3(5000) = 2000$$

$$(15000, 2000)$$

O único gráfico que contém esses dois pontos é o gráfico da alternativa A.